

.....
Imię i nazwisko

.....
klasa

Kartkówka 1

Grupa A

1. Policz owoce w każdym koszyku i połącz z odpowiednią liczbą.



5

3


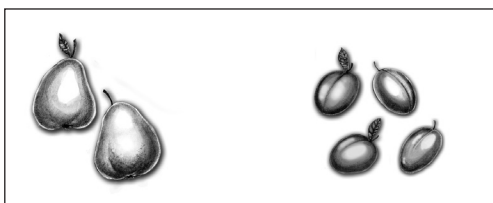
4

1

2


2 p.

2. Przyjrzyj się narysowanym owocom i w każdej ramce otocz pętlą owoce, których jest mniej.



2 p.



3. Pokoloruj kwiaty zgodnie z instrukcją. Licz od lewej strony.



- drugi kwiat – na czerwono;
- pierwszy kwiat – na żółto;
- czwarty kwiat – na niebiesko;
- dorysuj listek do siódmego kwiatka.

2 p.

4. W każdej ramce narysuj takie monety, aby razem było pięć złotych. Podaj dwa przykłady.



2 p.

Ogólna liczba punktów:

Ocena nauczyciela:

8 p.

.....
Imię i nazwisko

.....
klasa

Kartkówka 1

Grupa B

1. Policz owoce w każdym koszyku i połącz z odpowiednią liczbą.



5

3


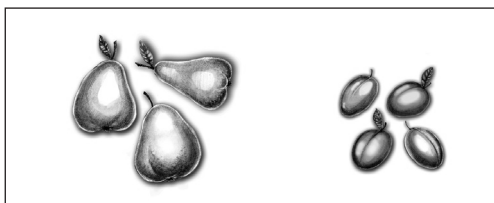
4

1

2


2 p.

2. Przyjrzyj się narysowanym owocom i w każdej ramce otocz pętlą owoce, których jest mniej.



2 p.



3. Pokoloruj kwiaty zgodnie z instrukcją. Licz od lewej strony.



- drugi kwiat – na czerwono;
- pierwszy kwiat – na żółto;
- czwarty kwiat – na niebiesko;
- dorysuj listek do siódmego kwiatka.

2 p.

4. W każdej ramce narysuj takie monety, aby razem było pięć złotych. Podaj dwa przykłady.



2 p.

Ogólna liczba punktów:

Ocena nauczyciela:

8 p.