



24 ZADANIA MATEMATYCZNE



# Matematyczny KALENDARZ ADWENTOWY


zadania dla młodszych skrzatów



POCZUJ MAGIĘ ŚWIĄT  
ROZWIĄZUJĄC ZADANIA  
MATEMATYCZNE

ZA KAŻDE ROZWIĄZANE ZADANIE  
SPECJALNY PREZENT





24 zadania matematyczne utrwalające podstawowe zagadnienia z matematyki. Za każdy dzień, za każde rozwiązane zadanie dzieci otrzymują w prezencie świąteczną bombkę. 24 grudnia choinka powinna zostać ubrana w specjalne bombki.



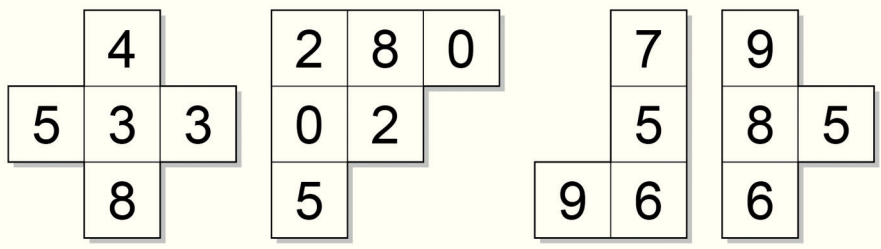
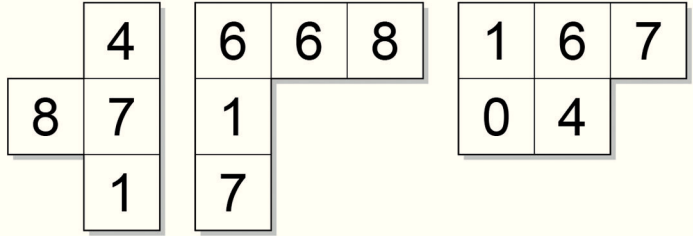




# Zadanie na dziś - Detektyw

Twoim zadaniem jest znalezienie wyciętych kawałków z liczbami z diagramu. Znajdź wszystkie ukryte kawałki.

3	1	6	8	8	2	1	4	9	8	1	1
1	5	4	8	0	7	5	7	8	9	0	4
5	8	7	1	4	2	0	9	5	8	5	6
3	5	1	1	6	7	7	9	6	6	6	4
1	4	9	3	7	4	6	6	8	1	3	8
6	4	1	0	8	6	1	3	5	3	2	7
4	7	5	9	2	4	7	8	4	2	4	4
6	7	0	2	2	1	3	5	3	3	1	2
7	8	0	8	3	6	2	1	8	8	1	4
0	7	4	2	8	0	6	9	4	2	4	3
1	5	6	0	2	1	0	1	1	6	7	3
9	6	3	5	1	8	2	1	0	4	7	2







# Zadanie na dziś - Labirynt



Twoim zadaniem na dziś jest znalezienie drogi do Św. Mikołaja.  
Zacznij od 1 i idź licząc od 1 do 59.



26	33	10	15	26	1	7	38	36	56	21	37
1	41	24	6	37	2	3	22	17	21	40	13
14	13	12	53	44	47	4	36	28	12	32	32
15	3	11	22	58	6	5	31	39	4	58	38
16	51	10	9	8	7	52	37	35	26	56	3
17	24	45	25	27	18	11	13	41	39	29	43
18	14	3	28	42	38	48	30	8	11	55	13
19	10	34	2	52	14	42	33	14	15	51	50
20	21	38	45	26	27	28	41	1	47	49	18
57	22	23	24	25	44	29	30	31	32	42	39
48	10	32	37	52	44	41	47	10	33	34	35
1	10	31	40	15	17	10	56	48	39	10	36
52	51	50	28	46	45	44	2	24	17	9	37
53	6	49	48	47	57	43	42	41	40	39	38
54	13	43	37	36	7	37	8	5	29	1	46
55	56	57	58	56	39	55	11	22	29	23	44
49	50	26	59	7	53	15	15	31	30	25	14







# Zadanie na dziś - Dodawanie

Twoim zadaniem na dziś jest dodanie kostek do siebie i napisanie wyniku.










\* Zadanie na dziś - Sudoku \*

Twoim zadaniem na dziś jest rozwiązanie sudoku. Musisz wpisać liczby od 1 do 4 w wolne miejsce. W pionie i w poziome dana liczba może powtarzać się tylko raz.

	3	1	4
1	2		

	1	4	
	3		
	2	1	

4			
1			3
2			
3			2

			4
4	2		1
	3		








Zadanie na dziś - Labirynt

Twoim zadaniem na dziś jest przejście labiryntu. Musisz znaleźć drogę jednej gwiazdki do drugiej.






# Zadanie na dziś - Kolorowanie

Twoim zadaniem na dziś jest pokolorowanie obrazku według kodu. Ale najpierw musisz wykonać działania.

- 0 - 9 czerwony
- 10 - 15 zielony
- 16 - 20 niebieski
- 21 - 25 żółty








# \* Zadanie na dziś - Tajemniczy labirynt \*



Twoim zadaniem na dziś jest znalezienie drogi do bałwanka. Zaczynij od strzałki, rozwiąż działania, odszukaj prawidłową odpowiedź i idź do bałwanka.



$\begin{array}{r} 3 \\ +2 \\ \hline \end{array}$	3 13	$\begin{array}{r} 7 \\ +5 \\ \hline \end{array}$	12 3	$\begin{array}{r} 10 \\ -7 \\ \hline \end{array}$	5 2	$\begin{array}{r} 8 \\ -5 \\ \hline \end{array}$	3 3	$\begin{array}{r} 12 \\ -4 \\ \hline \end{array}$	5 8	$\begin{array}{r} 14 \\ -6 \\ \hline \end{array}$
5		12	3	3		3		8		9
7		7		8		8		11		2
$\begin{array}{r} 14 \\ -7 \\ \hline \end{array}$	7 7	$\begin{array}{r} 14 \\ -7 \\ \hline \end{array}$	10 7	$\begin{array}{r} 11 \\ -3 \\ \hline \end{array}$	8 8	$\begin{array}{r} 6 \\ +2 \\ \hline \end{array}$	6 9	$\begin{array}{r} 7 \\ +3 \\ \hline \end{array}$	10 4	$\begin{array}{r} 2 \\ -1 \\ \hline \end{array}$
7		8		6		5		7		1
6		7		3		7		10		7
$\begin{array}{r} 11 \\ -5 \\ \hline \end{array}$	6 8	$\begin{array}{r} 7 \\ +1 \\ \hline \end{array}$	5 6	$\begin{array}{r} 3 \\ +1 \\ \hline \end{array}$	4 10	$\begin{array}{r} 8 \\ +2 \\ \hline \end{array}$	9 9	$\begin{array}{r} 11 \\ -3 \\ \hline \end{array}$	11 4	$\begin{array}{r} 3 \\ +1 \\ \hline \end{array}$
4		8		4		10		8		5
9		10		6		1		2		6
$\begin{array}{r} 8 \\ -2 \\ \hline \end{array}$	5 11	$\begin{array}{r} 6 \\ +4 \\ \hline \end{array}$	7 3	$\begin{array}{r} 9 \\ -3 \\ \hline \end{array}$	5 4	$\begin{array}{r} 5 \\ -4 \\ \hline \end{array}$	3 3	$\begin{array}{r} 4 \\ -3 \\ \hline \end{array}$	1 9	$\begin{array}{r} 5 \\ +2 \\ \hline \end{array}$
6		10		7		1		4		7
7		8		6		10		6		10
$\begin{array}{r} 6 \\ +1 \\ \hline \end{array}$	7 8	$\begin{array}{r} 7 \\ +1 \\ \hline \end{array}$	8 4	$\begin{array}{r} 2 \\ +2 \\ \hline \end{array}$	4 10	$\begin{array}{r} 7 \\ +3 \\ \hline \end{array}$	13 7	$\begin{array}{r} 5 \\ +3 \\ \hline \end{array}$	9 8	$\begin{array}{r} 6 \\ +2 \\ \hline \end{array}$
7		6		5		8		8		5
10		3		9		6		4		10
$\begin{array}{r} 6 \\ +4 \\ \hline \end{array}$	12 4	$\begin{array}{r} 11 \\ -5 \\ \hline \end{array}$	6 6	$\begin{array}{r} 12 \\ -6 \\ \hline \end{array}$	6 7	$\begin{array}{r} 14 \\ -7 \\ \hline \end{array}$	7 5	$\begin{array}{r} 11 \\ -7 \\ \hline \end{array}$	5 11	$\begin{array}{r} 6 \\ +4 \\ \hline \end{array}$
13		8		5		4		4		9





# \* Zadanie na dziś - Znajdź działanie \*



Twoim zadaniem na dziś jest znalezienie 30 działań z dodawaniem lub odejmowaniem. Musisz wpisać prawidłowy znak +, -, =. Działania mogą być ułożone w dół lub w bok. (patrz: przykład)

13 - 8 = 5    12    9    1    1    12    8    14

20    13    3    5    7    4    2    10    6    8

11    5    12    7    2    6    3    22    2    6

9    8    14    10    4    10    9    3    1    2

10    6    4    11    4    10    14    18    10    8

15    8    7    20    12    8    16    11    5    8

5    2    7    11    10    21    4    11    15    8

6    4    2    1    8    9    7    18    8    1

4    3    16    7    9    6    10    12    4    9

6    4    10    13    3    10    17    6    =    12    3













\* Zadanie na dziś - Sprytnie oczko \*



Twoim zadaniem na dziś jest odnalezienie i policzenie świątecznych obrazków. Ilość zaznacz na diagramie.  
Pokoloruj obrazki.







\* Zadanie na dziś - Mniej więcej \*



Twoim zadaniem na dziś jest wstawienie między liczbami odpowiedniego znaku  $<$   $>$   $=$ .

26 ○ 36

66 ○ 76

23 ○ 51

49 ○ 29

19 ○ 91

31 ○ 45

18 ○ 14

75 ○ 50

95 ○ 85

46 ○ 33

37 ○ 37

40 ○ 62

68 ○ 60

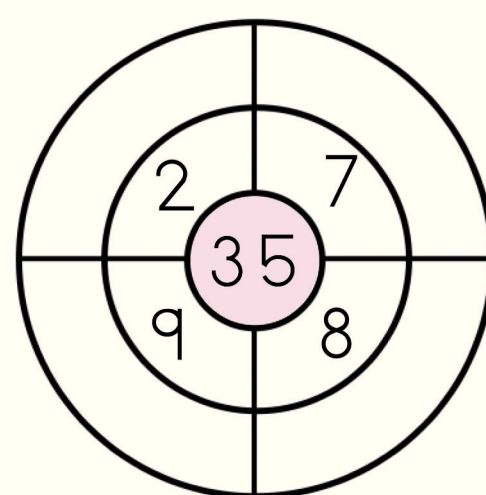
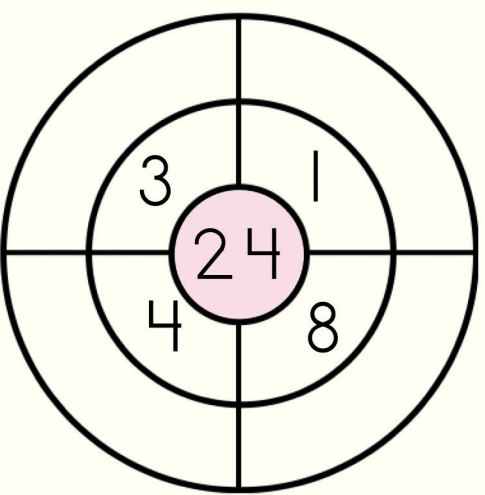
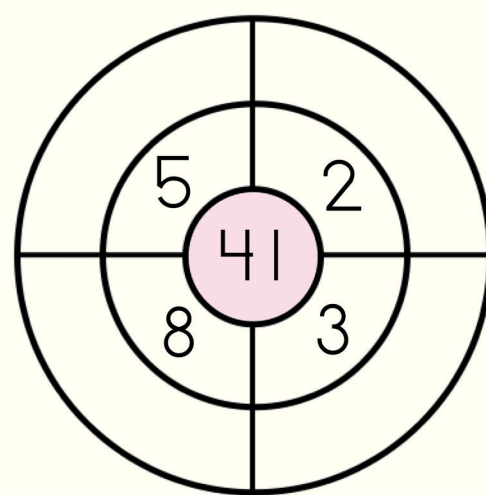
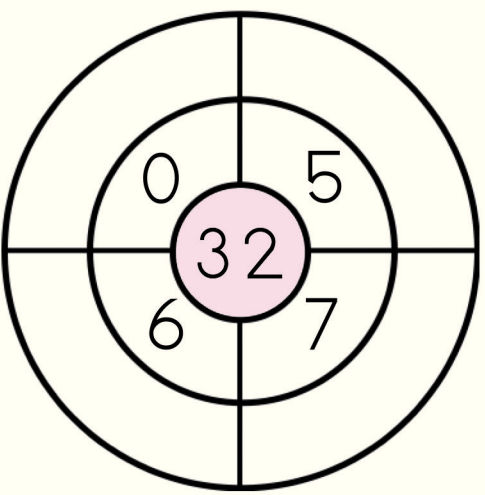
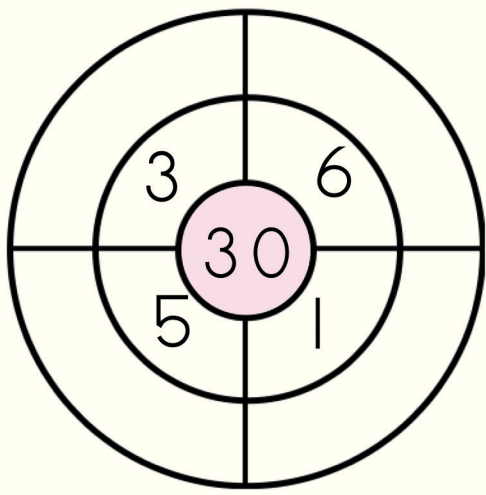
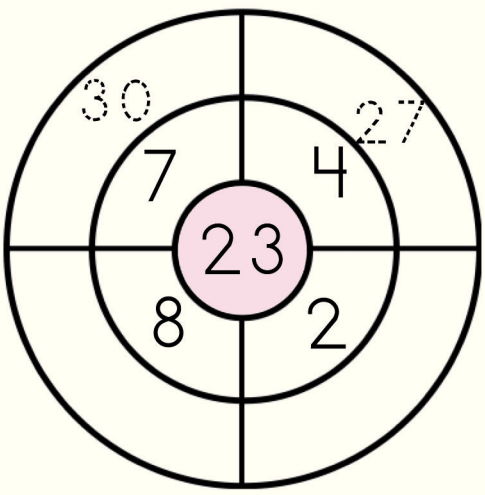
23 ○ 37





Zadanie na dziś - Celny strzał •

Twoim zadaniem jest dodanie liczb do siebie i wpisanie prawidłowego wyniku. (patrz: przykład)







\* Zadanie na dziś - Kolejność \*



Twoim zadaniem na dziś jest wpisanie w kwadraciki liczb jakie występują w kolejności przed lub za dana liczbą.

1.

5	6	7
15	16	
25	26	
	27	

2.

	2	
21		

3.

		10
	29	

4.

	25	
44		

5.

	68	
		89

6.

	36	

7.

74		

8.

	29	

9.

87		





\* Zadanie na dziś - Dodawanie \*



Twoim zadaniem na dziś jest dodanie liczb do siebie.

$$20 + 10 + 52 = \square$$

$$61 + 20 + 10 = \square$$

$$10 + 40 + 53 = \square$$

$$20 + 35 + 20 = \square$$

$$42 + 20 + 10 = \square$$

$$10 + 28 + 40 = \square$$

$$16 + 30 + 20 = \square$$





\* Zadanie na dziś - Odejmowanie \*



Twoim zadaniem na dziś jest odnalezienie zagubionej liczby. (patrz: przykład)

22 8

10 2 8

25 7

19 10

14 7

29 12








# Zadanie na dziś - Kolorowanie



Twoim zadaniem na dziś jest pokolorowanie obrazka zgodnie z przypisanymi kolorami do liczby. Ale najpierw musisz rozwiązać działania.

- 0 - 9 czerwony
- 10 - 15 brązowy
- 16 - 20 jasny brąz
- 21 - 25 żółty
- 25 - 30 czarny
- 31 - 35 różowy











\* Zadanie na dziś - Chatka z piernika \*

Twoim zadaniem na dziś jest odnalezienie na chatce rysunków. Wpisz w diagram ile razy dany rysunek występuje. Pokoloruj obrazek.



1 2 3 4 5 6 7 8 9 10







\* Zadanie na dziś - Zgadnij liczbę \*




Twoim zadaniem na dziś jest zaznaczenie prawidłowej liczby, tak by wynik dodawania się zgadzał.

  $11 + \underline{\quad} = 20$


10	11	9	8
----	----	---	---

  $12 + \underline{\quad} = 20$


12	8	7	10
----	---	---	----

  $13 + \underline{\quad} = 20$


7	10	13	9
---	----	----	---

  $14 + \underline{\quad} = 20$


10	2	6	9
----	---	---	---

  $15 + \underline{\quad} = 20$


15	10	5	8
----	----	---	---

  $16 + \underline{\quad} = 20$

4	6	10	14
---	---	----	----

  $17 + \underline{\quad} = 20$

7	10	13	3
---	----	----	---

  $18 + \underline{\quad} = 20$

10	2	12	1
----	---	----	---









Zadanie na dziś - Kim jestem




Twoim zadaniem na dziś jest wpisanie liczby, która występuje w kolejności przed lub za daną liczbą. Pokoloruj ubranka małego skrzata.




	6	
--	---	--




	10	
--	----	--




	15	
--	----	--




	2	
--	---	--



	11	
--	----	--




	8	
--	---	--




	19	
--	----	--




	5	
--	---	--




	17	
--	----	--



	13	
--	----	--



	3	
--	---	--



	9	
--	---	--

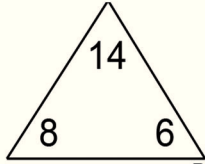




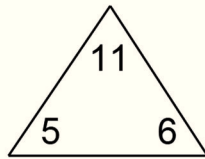
\* Zadanie na dziś - Trójkąty \*



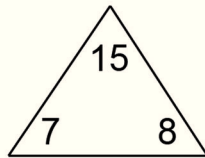
Twoim zadaniem na dziś jest wypełnienie pól i rozwiązanie działań zgodnie z przykładem.



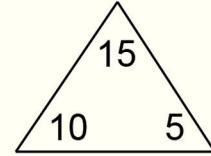
$$\begin{array}{l} 8 + 6 = 14 \\ 6 + 8 = 14 \\ 14 - 8 = 6 \\ 14 - 6 = 8 \end{array}$$



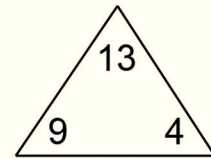
$$\begin{array}{l} \square + \square = \square \\ \square + \square = \square \\ \square - \square = \square \\ \square - \square = \square \end{array}$$



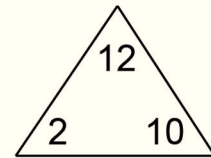
$$\begin{array}{l} \square + \square = \square \\ \square + \square = \square \\ \square - \square = \square \\ \square - \square = \square \end{array}$$



$$\begin{array}{l} \square + \square = \square \\ \square + \square = \square \\ \square - \square = \square \\ \square - \square = \square \end{array}$$



$$\begin{array}{l} \square + \square = \square \\ \square + \square = \square \\ \square - \square = \square \\ \square - \square = \square \end{array}$$



$$\begin{array}{l} \square + \square = \square \\ \square + \square = \square \\ \square - \square = \square \\ \square - \square = \square \end{array}$$





# Zadanie na dziś - Renifer



Twoim zadaniem na dziś jest narysowanie elementów reniferka zgodnie z kolejnością rzucania kostki.



Narysuj szalik



Narysuj czerwony nos



Narysuj oczy




Narysuj czapkę



Pokoloruj reniferka na brązowo



Narysuj ogonek




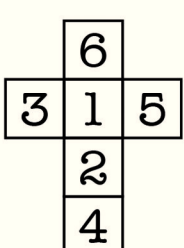

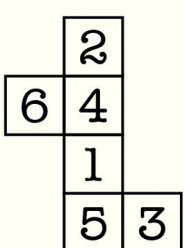

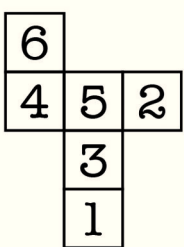

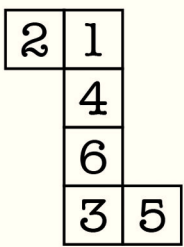

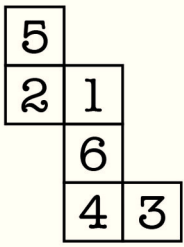




# Zadanie na dziś - Kostka



Twoim zadaniem na dziś jest odnalezienie tej kostki, która nie pasuje.  
Trzy kostki są dobre, jedna jest zła - zaznacz ją.  
Popatrz na siatkę i zaznacz odpowiednią kostkę.





# Zadanie na dziś - Ścieżka

Twoim zadaniem na dziś jest zaznaczenie ścieżki z liczb, które po dodaniu dadzą dany wynik. (patrz: przykład)

6	6	4
8	2	3
9	6	6

+ 35

8	4	8
4	5	1
2	2	2

+ 20

10	4	4
5	3	3
10	1	3

+ 24

7	3	3
6	6	1
4	9	6

+ 37

3	8	5
9	4	1
9	1	8

+ 25

8	2	9
9	5	7
5	5	5

+ 36








Zadanie na dziś - Diagram





Twoim zadaniem na dziś jest odnalezienie rysunków, policzenie ich oraz wpisanie ilości do diagramu. Pokoloruj obrazek.



- WESOŁYCH ŚWIĄT -



1 2 3 4 5 6 7 8 9 10





# Wesołych Świąt



24

23

21

22

20

19

18

17

13

14

15

16

12

11

10

9

8

7

6

5


4

3


2

1





24 ZADANIA MATEMATYCZNE



# WESOŁYCH ŚWIĄT



POCZUJ MAGIĘ ŚWIĄT  
ROZWIĄZUJĄC ZADANIA  
MATEMATYCZNE

ZA KAŻDE ROZWIĄZANE ZADANIE  
SPECJALNY PREZENT

