

Imię i nazwisko

- 1** Uzupełnij zdania na podstawie danych klimatycznych zamieszczonych w tabeli. Następnie podkreśl nazwę miejscowości, której te dane dotyczą. (..../5 pkt)

Miesiące	I	II	III	IV	V	VI	VII	VIII	IX	X	XI	XII
Średnia temperatura powietrza (°C)	-5,1	-5,0	-1,0	5,8	12,0	15,5	16,8	16,1	12,0	7,3	1,4	-2,5
Suma opadów (mm)	36	26	30	36	54	70	71	72	55	45	50	39

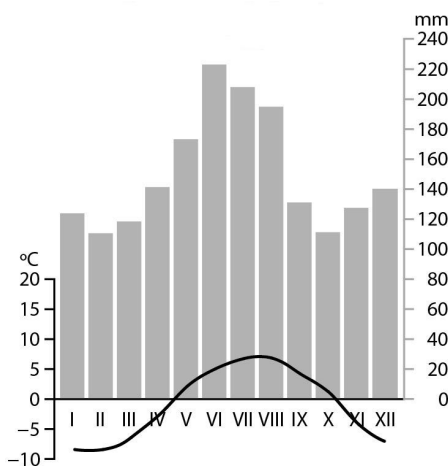
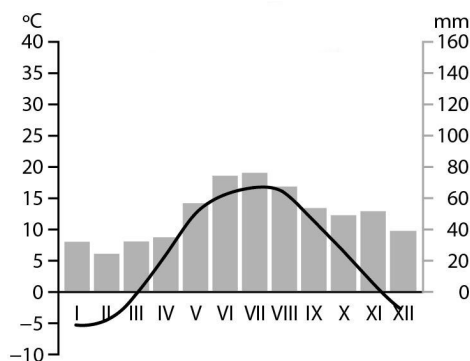
Suwalki, Wrocław

- a) Najcieplejszym miesiącem jest, którego średnia temperatura powietrza wynosi°C.
- b) Najchłodniejszym miesiącem jest Jego średnia temperatura powietrza wynosi°C.
- c) Średnia roczna amplituda temperatury powietrza wynosi
- d) Największe opady obserwuje się w miesiącu Wynoszą one średnio mm.

- 2** Poniżej przedstawiono klimatogramy sporządzone dla dwóch wybranych stacji meteorologicznych. (..../2 pkt)

A.

B.



- a) Zapisz literę, którą oznaczono klimatogram sporządzony dla stacji położonej w górach.

- b) Zaznacz dwa podpunkty, w których podano argumenty uzasadniające Twój wybór.

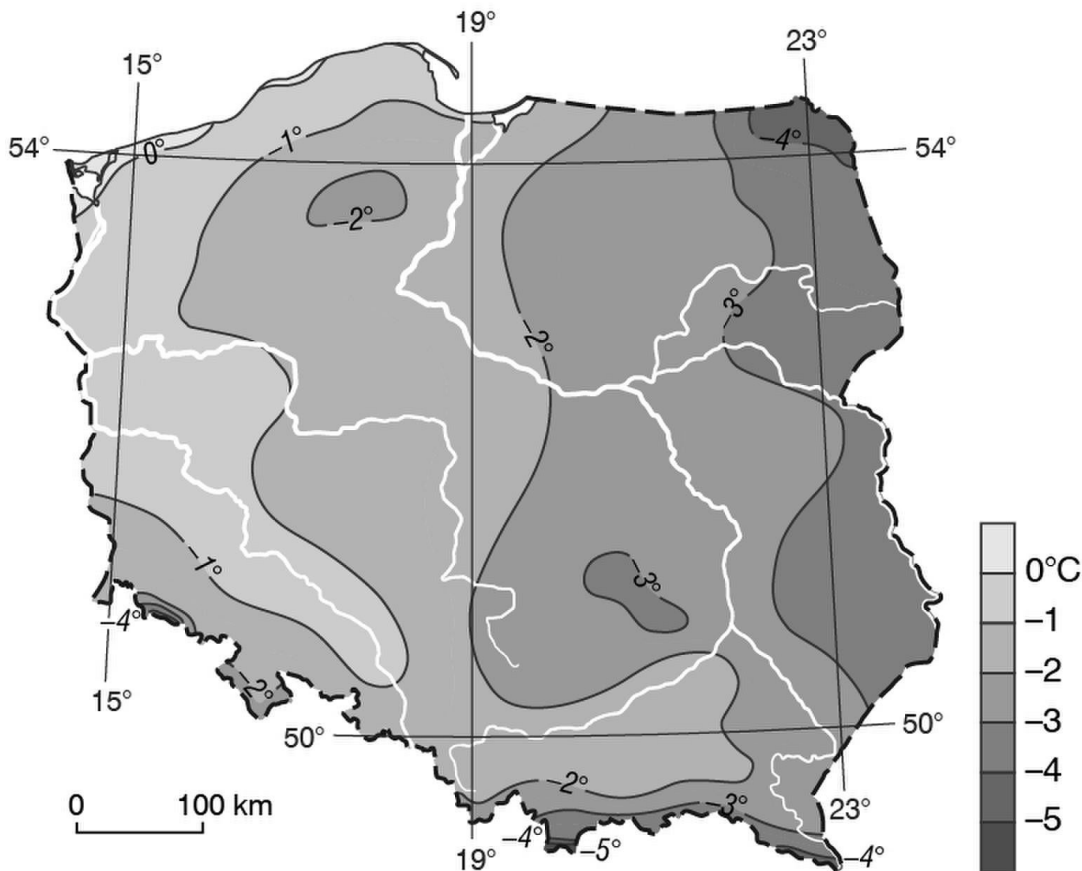
- A. Niższe wartości temperatury powietrza.
- B. Wyższe wartości temperatury powietrza.
- C. Wysokie sumy opadów atmosferycznych.

D. Niskie sumy opadów atmosferycznych.

E. Wysoka średnia roczna temperatura powietrza.

3 Mapa przedstawia rozkład temperatury powietrza w styczniu.

(.../3 pkt)



Na podstawie mapy oceń prawdziwość informacji. Wybierz P, jeśli informacja jest prawdziwa, lub F, jeśli jest fałszywa.

1.	Najwyższe średnie wartości temperatury powietrza odnotowuje się w północno-wschodniej części Polski.	P	F
2.	W Sudetach średnie wartości temperatury powietrza są niższe niż w Karpatach.	P	F
3.	Poza terenami górskimi najchłodniejszym regionem Polski jest Pojezierze Suwalskie.	P	F

4 Oceń prawdziwość poniższych zdań. Wybierz P, jeśli informacja jest prawdziwa, lub F, jeśli jest fałszywa

(.../4 pkt)

1.	Wspólną cechą większości europejskich rzek jest zasilanie deszczowo-śnieżne.	P	F
2.	Polska leży w zlewiskach Morza Bałtyckiego, Morza Czarnego i Morza Północnego.	P	F
3.	Drugą pod względem długości polską rzeką jest Odra.	P	F
4.	Najdłuższymi rzekami Europy są Wolga, Dunaj i Wisła.	P	F

5 Podkreśl nazwy mórz, w których zlewiskach leży Polska.

(.../3 pkt)

6 Przyporządkuj każdemu opisowi (1–4) odpowiedni termin (A–E). Zaznacz w tabeli właściwe litery.

(.../4 pkt)

1.	Obszar, z którego wszystkie wody rzek spływają do jednego morza.	A	B	C	D	E
2.	Granica między dorzeczami lub zlewiskami.	A	B	C	D	E
3.	Obszar, z którego wszystkie wody spływają do jednej rzeki.	A	B	C	D	E
4.	Ilość wody przepływającej w ciągu 1 s przez określone miejsce rzeki.	A	B	C	D	E

A. Dorzecze. B. Przepływ. C. Dopływ. D. Zlewisko. E. Dział wodny.

7 Podkreśl podpunkt zawierający prawidłową charakterystykę Morza Bałtyckiego.

(.../1 pkt)

A. Młode, bardzo płytkie (maksymalna głębokość 52 m) morze śródlądowe.

B. Młode morze międzykontynentalne o średnim zasoleniu 35‰.

C. Chłodne morze szelfowe o średnim zasoleniu 7,5‰.

D. Chłodne morze przybrzeżne o słabo rozwiniętej linii brzegowej.

8 Podaj przykład formy terenu znajdującej się na wybrzeżu i będącej skutkiem poniższych procesów.

(.../2 pkt)

a) Budująca działalność wód morskich:

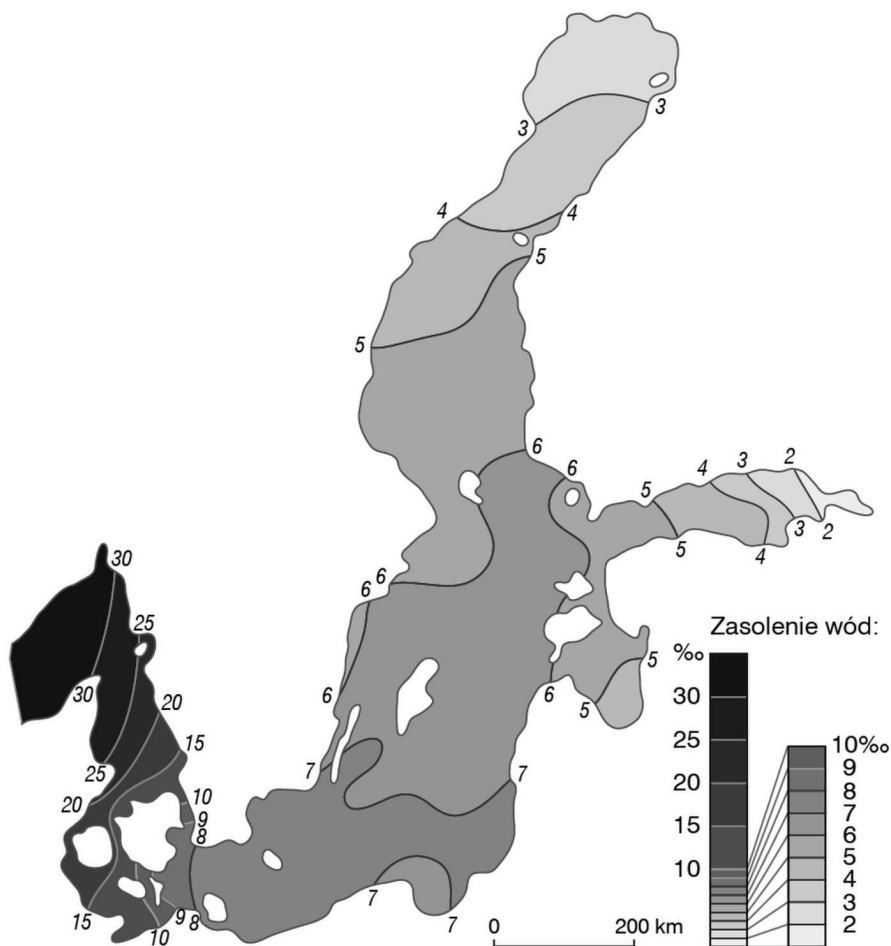
.....

b) Niszcząca działalność wód morskich:

.....

9 Na poniższej mapie przedstawiono zasolenie wód powierzchniowych Bałtyku.

(.../2 pkt)



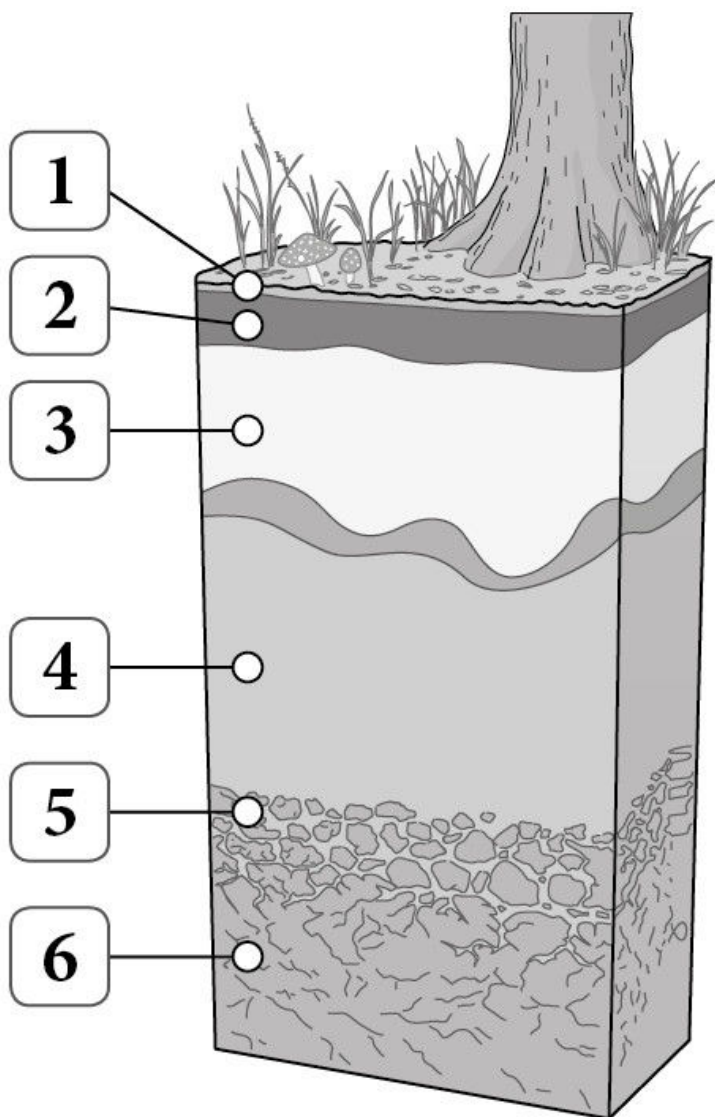
Na podstawie mapy uszereguj miejsca, których nazwy wymieniono poniżej, w kolejności od najmniejszego do największego zasolenia.

Zatoka Gdańska, cieśnina Kattegat, Zatoka Fińska

..... → →

10 Ilustracja przedstawia profil glebowy.

(.../2 pkt)



Zapisz cyfry, którymi zaznaczono na ilustracji poziom wmywania i skałę macierzystą.

a) Poziom wmywania:

b) Skała macierzysta:

11 Zaznacz nazwę regionu Polski, w którym występują czarnoziemy.

(.../1 pkt)

- A. Nizina Podlaska.
- B. Pojezierze Mazurskie.
- C. Wyżyna Lubelska.
- D. Tatry.

12 Podkreśl nazwę gatunku drzewa liściastego, który dominuje w polskich lasach.

(.../1 pkt)

modrzew, wierzba, topola, dąb, sosna

13 Zaznacz prawidłowe dokończenie zdania.

(.../1 pkt)

Udział lasów w całkowitej powierzchni Polski wynosi około

- A. 25%.
- B. 30%
- C. 35%
- D. 40%

14 Dopasuj nazwy typów lasów do odpowiednich opisów.

(.../3 pkt)

1. łęg
2. bór
3. ols

- A. Tworzą go dęby, jesiony, wierzby i topole. Występuje w okresowo zalewanych dolinach rzek.
- B. Las porastający bagienne obniżenia. Charakterystycznym gatunkiem jest w nim olsza czarna.
- C. Wielogatunkowy las liściasty rosnący na żyznych glebach.
- D. Las porastający obszary o mało żyznych glebach. Rosną w nim niemal wyłącznie sosny.

15 Dokończ zdanie. Wybierz odpowiedź A lub B i jej uzasadnienie 1., 2. albo 3.

(.../2 pkt)

W województwie lubelskim wskaźnik lesistości jest

A.	bardzo niski,	ponieważ	1.	na znacznych obszarach występują gleby mało żyzne, które sprzyjają występowaniu lasów.
B.	bardzo wysoki,		2.	na znacznych obszarach występują bardzo żyzne gleby, które są wykorzystywane rolniczo.
			3.	tworzy się obszary ochronne (np. wchodzące w skład sieci Natura 2000).

16 Dopasuj do odpowiednich rubryk tabeli podane cechy parku narodowego oraz parku krajobrazowego.

(.../2 pkt)

bezwzględny zakaz niszczenia roślin i płoszenia zwierząt, dozwolona działalność gospodarcza niepowodująca przekształcenia naturalnego krajobrazu, poruszanie się tylko po oznakowanych szlakach, teren z zachowanymi estetycznymi wartościami krajobrazu, teren o wybitnych walorach przyrodniczych i krajobrazowych, ograniczona, a czasami całkowicie zakazana działalność gospodarcza

Park narodowy	Park krajobrazowy