

Edukacja polonistyczna

Temat: Ku Niepodległości.

Otwórz podręcznik na **s.16 - 17** i przeczytaj informacje o wydarzeniach historycznych.

Jak je ułożono?

Czym jest według ciebie oś czasu?

Wykonaj w kartach ćwiczeń ćwiczenia 1, 2 , 3 s. 15





- 1 Wykreśl powtarzający się wyraz. Odczytaj pozostałe wyrazy i uzupełnij nimi zdanie.

li wiek niawiekwy wiek dawiek rzewiek niawiek

Oś czasu to _____, na której zaznacza się _____

uporządkowane chronologicznie, czyli zgodnie z ich kolejnością w czasie.

- 2 Na podstawie osi czasu na s. 16–17 w podręczniku umieść obok każdego wydarzenia nalepkę z odpowiednim wiekiem.

<input type="checkbox"/> Zwycięska bitwa z Krzyżakami pod Grunwaldem.	
<input type="checkbox"/> Uchwalenie Konstytucji 3 maja.	
<input type="checkbox"/> Koronacja Bolesława Chrobrego.	
<input type="checkbox"/> Odzyskanie niepodległości.	

- Uporządkuj wydarzenia chronologicznie – ponumeruj okienka.

W podręczniku przeczytaj ciekawostki historyczne o XIXw. Wiek kultury i nauki i odpowiedz na pytania:

- Dlaczego XIX w. jest nazwany wiekiem kultury i nauki?
- Jacy sławni ludzie żyli w tym wieku?
- Ile lat trwa wiek?

Wykonaj ćw. 3 s.15.

3 Dopisz nazwiska wielkich Polaków.

kompozytor – Fryderyk _____

astronom – Mikołaj _____

poeta – Adam _____

wynalazca – Ignacy _____

Wiek ma sto lat.



Teraz wykonaj ćw. 5 s. 16

5 Uzupełnij tekst kolejnymi wyrażeniami z ramki w odpowiedniej formie.

dzielni Polacy • utracona wolność • groźny wróg •
wolna Polska • trudny przeciwnik • niepodległa Ojczyzna

_____ walczyli

o odzyskanie _____

Przeciwstawiali się _____

W głowach i sercach widzieli _____

Walczyli z _____

ale nie przestawali marzyć o _____

* W ramki pod wyrażeniami wpisz odpowiednie pytania.

z kim?

komu?

kto?

o czym?

co?

czego?



Edukacja matematyczna

Temat: Odczytuj i zapisuj liczby trzycyfrowe.

Liczba trzycyfrowa jest zapisana za pomocą trzech cyfr.



Liczbę 276 czytamy: dwieście siedemdziesiąt sześć.

1 Przeczytaj, co mówi Antek. Odczytaj liczby trzycyfrowe.

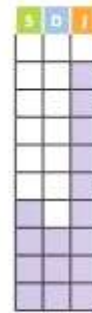

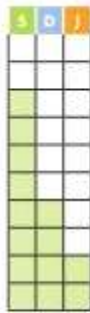




Za pomocą cyfr:
1, 3, 6 zapisałem tyle liczb
trzycyfrowych.

136 163 316
361 613 631

- W każdej z liczb wskaż setki, dziesiątki i jedności.
- Odczytaj liczby, w których cyfra 6 oznacza 6 dziesiątek, oraz te, w których cyfra 3 oznacza 3 setki.

Odczytaj liczby przedstawione na rysunkach.



pięćset
dziewięćdziesiąt
jeden

W kartach matematycznych wykonaj ćwiczenia ze strony 56.

W- f to już chyba tylko przyjemność. Dbajcie o zdrowie i ćwiczcie !

<https://wordwall.net/pl/resource/1121591/wychowanie-fizyczne/lekcja-wf-2->