


Figury magiczne

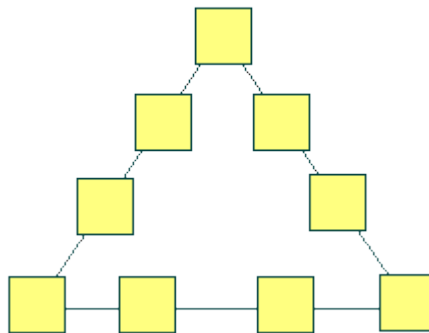
Zadanie 1.

Uzupełnij kwadrat magiczny liczbami od 1 do 16, tak aby suma magiczna wynosiła 34.



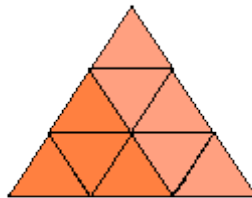
Zadanie 2.

W pola trójkąta wpisz liczby od 1 do 9, tak aby suma liczb na każdym boku była taka sama.



Zadanie 3.

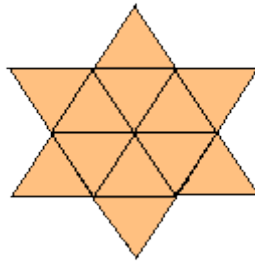
W małe trójkąty wpisz liczby od 1 do 9, tak aby suma liczb w każdym narożniku wynosiła 20, a na każdym boku wynosiła 25.



Zadanie 4.

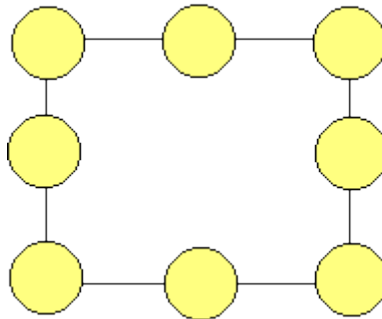
W małe trójkąty wpisz liczby od 1 do 12, tak aby suma na każdym boku jednego trójkąta wynosiła 40, drugiego trójkąta 25, a w narożnych trójkątach i

wewnętrznym sześciokącie 39.



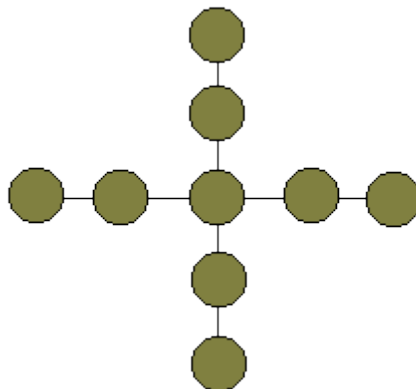
Zadanie 5.

Wpisz w kółka liczby 1, 2, 3, 4, 5, 6, 7, 8, 9 tak, aby suma liczb wzdłuż każdej linii była równa 15.



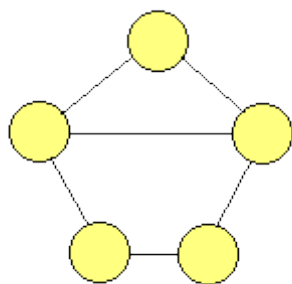
Zadanie 6.

Wpisz w kółka liczby 1, 2, 3, 4, 5, 6, 7, 8, 9 tak, aby suma wzdłuż każdej linii była taka sama.



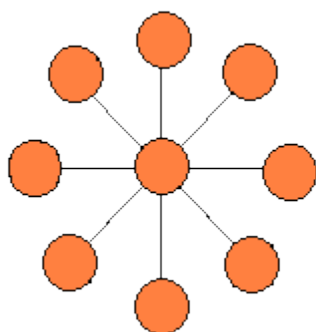
Zadanie 7.

Uzupełnij rysunek, wpisując w koła liczby 1, 2, 3, 4, 5 tak, aby żadne dwie kolejne liczby nie znalazły się w kółkach połączonych linią.



Zadanie 8.

Wpisz w kółka liczby 1, 2, 3, 4, 5, 6, 7, 8, 9 tak, aby sumy wzdłuż linii były równe.



Zadanie 9.

Uzupełnij kółka liczbami 1, 2, 3, 4, 5 tak, żeby żadne dwie kolejne liczby nie były połączone odcinkami.

